

## A mérések és kísérletek felsorolása

### A fizika középszintű szóbeli vizsga témakörei, illetve kísérletei és egyszerű mérései

#### I. Mozgás, egyensúly

##### 1. Egyenes vonalú mozgások

*A Mikola-csőben lévő buborék mozgását tanulmányozva igazolja az egyenes vonalú egyenletes mozgásra vonatkozó összefüggést! – elvégzendő kísérlet*

##### 2. Változó mozgás

*A gravitációs gyorsulás értékének meghatározása fonálinga lengésidejének mérésével – elvégzendő kísérlet*

##### 3. Newton törvényei

*Rugalmas ütközés tanulmányozása rugós ütközőkkel ellátott kiskocsik segítségével – elvégzendő kísérlet*

##### 4. Periodikus mozgások (Harmonikus rezgőmozgás, egyenletes körmozgás)

*Rugóra rögzített, rezgőmozgást végző test periódusidejének tömegfüggése – elvégzendő kísérlet*

##### 5. Pontszerű és merev test egyensúlya, egyszerű gépek

*Erőmérővel kiegyensúlyozott karos mérleg segítségével tanulmányozza a merev testre ható forgatónyomatékokat és az egyszerű emelők működési elvét! – elvégzendő kísérlet*

#### II. Energia, munka, hő

##### 6. Szilárd anyagok, folyadékok és gázok hőtágulásának bemutatása

*A hőtágulás bemutatása – golyó és lyuk hőtágulása – elvégzendő kísérlet*

##### 7. Gázok állapotváltozásai, halmazállapotváltozások

*A lecsapódás jelensége – a gázok nyomása – elvégzendő kísérlet*

#### III. Víz, levegő, környezet

##### 8. Folyadékok és gázok mechanikája (Hidrosztatikai nyomás, légnyomás)

*Úszás, lebegés, elmerülés bemutatása Cartesius-bűvár segítségével – elvégzendő kísérlet*

##### 9. Környezet (Hőterjedés, lakások hőszabályozása), közegellenállás

*Arkhimédész törvényének igazolása arkhimédészi hengerpárral – elvégzendő mérés*

#### IV. Elektromosság

##### 10. Elektrosztatika, testek elektromos állapota, elektromos mező

*Sztatikus elektromos töltés és a töltésmegosztás elvének tanulmányozása különböző anyagok segítségével – elvégzendő kísérlet*

##### 11. Elektromos áram, soros és párhuzamos kapcsolás, egyenáram hatásai

*Soros és párhuzamos kapcsolás tanulmányozása áramforrás és két zseblámpaizzó segítségével – elvégzendő kísérlet*

##### 12. Mágneses mező

*Az árammal átjárt vezető egyenes szakaszának környezetében a vezető mágneses terének vizsgálata. – elvégzendő kísérlet*

##### 13. Elektromágneses indukció, generátor, transzformátor, elektromos áram előállítása

*Légmagos tekercs és mágnesek segítségével tanulmányozza az elektromágneses indukció jelenségét! – elvégzendő kísérlet*

## V. Hullámok, kommunikáció, fény

### 16. Mechanikai hullámok, hang

*A hang sebességének mérése – elvégzendő mérés*

### 14. Geometriai fénytán – tükrök, lencsék, optikai eszközök

*Üveglencse fókusz távolságának megmérése – elvégzendő kísérlet*

### 15. A fény hullámtermészete

*A fény polarizáció jelenségének tanulmányozása polárszűrőkkel – elvégzendő kísérlet*

## V. Atomfizika, magfizika

### 17. Atommodellek, színeképek és atomszerkezet – Bohr modell

*Bohr atommodelljének legfontosabb jellemzőinek a bemutatása hidrogénatom esetében! A hidrogén vonalas színeképek értelmezése a Bohr-modell alapján! – adatelemzés.*

### 18. Magfizika, az atommag összetétele, radioaktivitás

*Bomlási sort bemutató grafikon elemzése – grafikon elemzés*

## VI. Gravitáció, csillagászat

### 19. Általános tömegvonzás, Kepler törvényei

*Kepler törvényeinek bemutatása és értelmezése számítógépes program segítségével! – demonstrációs program*

### 20. Csillagászat, Naprendszer, Nap, Hold, nap- és holdfogyatkozás, holdfázisok. Az Univerzum keletkezése.

*A Merkúrra és a Vénuszra vonatkozó táblázati adatok elemzése, összehasonlítása – adatelemzés*

A tételek száma témakörönként:

Mozgás és egyensúly:	5
Energia, munka, hő:	2
Víz, levegő, környezet:	2
Elektromosság:	4
Hullámok, kommunikáció, fény:	3
Atomfizika, magfizika:	2
A Világegyetem megismerése:	2

## 1. Egyenes vonalú mozgások

**Feladat:**

A Mikola-csőben lévő buborék mozgását tanulmányozva igazolja az egyenes vonalú egyenletes mozgásra vonatkozó összefüggést!

*Szükséges eszközök:*

Mikola-cső; dönthető állvány; befogó; stopperóra; mérőszalag.

**A kísérlet leírása:**

Rögzítse a Mikola-csövet a befogó segítségével az állványhoz, és állítsa pl.  $20^\circ$ -os dőlésszögre!


Figyelje meg a buborék mozgását, amint az a csőben mozog!

A stopperóra és a mérőszalag segítségével mérje meg, hogy mekkora utat tesz meg a buborék egy előre meghatározott időtartam (pl. 3 s) alatt!

Ismételje meg a mérést még kétszer, és minden alkalommal jegyezze fel az eredményt!

Utána mérje meg azt, hogy mennyi idő alatt tesz meg a buborék egy előre meghatározott utat (pl. 40 cm-t)! Ezt a mérést is ismételje meg még kétszer, eredményeit jegyezze fel!

Utána növelje meg a Mikola-cső dőlésének szögét  $45^\circ$ -osra és az új elrendezésben ismét mérje meg háromszor, hogy adott idő alatt mennyit mozdul el a buborék, vagy azt, hogy adott távolságot mennyi idő alatt tesz meg!



## 2. A gravitációs mező – gravitációs kölcsönhatás

**Feladat:**

Fonálinga lengésidejének mérésével határozza meg a gravitációs gyorsulás értékét!

*Szükséges eszközök:*

Fonálinga: legalább 30–40 cm hosszú fonálon kisméretű nehezék; stopperóra; mérőszalag; állvány.

**A kísérlet leírása:**

A fonálingát rögzítse az állványra, majd mérje meg a zsinór hosszát és jegyezze le!

Kis kitéréssel hozza az ingát lengésbe! Ügyeljen arra, hogy az inga maximális kitérése  $20^\circ$ -nál ne legyen nagyobb!

Tíz lengés idejét stopperrel lemérve határozza meg az inga periódusidejét!

Mérését ismételje meg még legalább négyszer!

A mérést végezze el úgy is, hogy az inga hosszát megváltoztatja – az új hosszal történő mérést is legalább négyszer végezze el!



### 3. Newton törvényei

**Feladat:**

A rugós ütközőkkel ellátott kocsik és a rájuk rögzíthető súlyok segítségével tanulmányozza a rugalmas ütközés jelenségét!

*Szükséges eszközök:*

Két egyforma, könnyen mozgó iskolai kiskocsi rugós ütközőkkel; különböző, a kocsikra rögzíthető nehezékek; sima felületű asztal vagy sín.

**A kísérlet leírása:**

A kocsikat helyezze sima felületű vízszintes asztalra, illetve sínre úgy, hogy a rugós ütközők egymás felé nézzenek!

A két kocsira rögzítsen egyforma tömegű nehezékeket, és az egyik kocsit meglökve ütköztesse azt a másik, kezdetben álló kocsival!

Figyelje meg, hogy a kocsik hogyan mozognak közvetlenül az ütközés után!

Ismételje meg a kísérletet úgy, hogy a kocsik szerepét felcseréli!

Változtassa meg a kocsikra rögzített tömegeket úgy, hogy az egyik kocsi lényegesen nagyobb tömegű legyen a másik kocsinál!

Végezze el az ütközési kísérletet úgy, hogy a kisebb tömegű kocsit löki neki a kezdetben álló, nagyobb tömegűnek!

Ismételje meg a kísérletet úgy is, hogy a nagyobb tömegű kocsit löki neki a kezdetben álló, kisebb tömegűnek!



## 4. Pontszerű és merev test egyensúlya, egyszerű gépek

### Feladat:

Erőmérővel kiegyensúlyozott karos mérleg segítségével tanulmányozza a merev testre ható forgatónyomatékokat és az egyszerű emelők működési elvét!

*Szükséges eszközök:*

Karos mérleg; erőmérő; súly; mérőszalag vagy vonalzó.

### A kísérlet leírása:

Egy egyensúlyban lévő karos mérleg egyik oldalára akassza fel az ismert súlyú testet, és jegyezze fel a távolságot a rögzítési pont és a kar forgástengelye között!

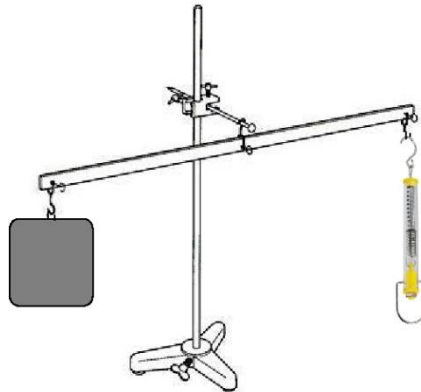
Rögzítse az erőmérőt a mérleg másik karján, a forgástengelytől ugyanekkora távolságra!

Egyensúlyozza ki a mérleget függőleges irányú erővel, és a mért erőértéket jegyezze le!

Változtassa meg az erőmérő rögzítési helyét (pl. a forgástengelytől fele- vagy harmadakkora távolságra, mint az első esetben), és ismét egyensúlyozza ki!

A mért erőértéket és a forgástengelytől való távolságot ismét jegyezze fel!

Készítsen értelmező rajzot, amely az elvégzett mérés esetében a mért erőértékek arányait és irányait magyarázza!



## 5. Periodikus mozgások

### Feladat:

Különböző tömegű súlyok felhasználásával vizsgálja meg egy rugóra rögzített, rezgőmozgást végző test periódusidejének függését a test tömegétől!

### Szükséges eszközök:

Bunsen-állványra rögzített rugó; legalább öt, ismert tömegű súly vagy súlysorozat; stopperóra; milliméterpapír.

### A kísérlet leírása:

Rögzítse az egyik súlyt az állványról lelógó rugóra, majd függőleges irányban kissé kitérítve óvatosan hozza rezgésbe! Ügyeljen arra, hogy a test a mozgás során ne ütközzön az asztalhoz, illetve hogy a rugó ne lazuljon el teljesen!

A rezgőmozgást végző test egyik szélső helyzetét alapul véve határozza meg a mozgás tíz teljes periódusának idejét, és ennek segítségével határozza meg a periódusidőt!

A mérés eredményét jegyezze le, majd ismételje meg a kísérletet a többi súllyal is!

A mérési eredményeket, valamint a kiszámított periódusidőket rögzítse táblázatban, majd ábrázolja a milliméterpapíron egy periódusidő-tömeg grafikonon!

Tegyen kvalitatív megállapítást a rezgésidő tömegfüggésére!



## 6. Cartesius-búvár

**Feladat:**

A rendelkezésre álló Cartesius-búvár segítségével mutassa be az úszás, a lebegés és az elmerülés jelenségét a vízben! Magyarázza el az eszköz működését!

*Szükséges eszközök:*

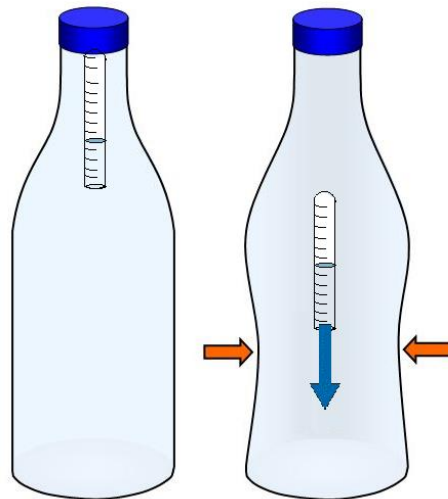
Nagyméretű (1,5–2,5 literes) műanyag flakon kupakkal; üvegből készült kisebb kémcső, oldalán 0,5 cm-es skálaosztással.

**A kísérlet leírása:**

Ha a flakont oldalirányban összenyomja, a búvár lesüllyed a flakon aljára.  
Magyarázza meg a búvár mozgását!

Figyelje meg, hogy hogyan változik a vízszint a kémcsőben a flakon összenyomásakor!  
Milyen folyamat játszódik le a kémcsőbe zárt levegő esetén? Mely állapotjelzők változnak meg?

Jegyezze fel a kémcsőbe szorult levegőoszlop hosszát akkor, amikor a búvár a felszínen lebeg, illetve akkor, amikor a flakon aljára süllyed!





## 7. Arkhimédész törvényének igazolása arkhimédészi hengerpárral

**Feladat:**

Az arkhimédészi hengerpár segítségével mérje meg a vízbe merülő testre ható felhajtóerő nagyságát!

*Szükséges eszközök:*

Arkhimédészi hengerpár (egy rugós erőmérőre akasztható üres henger, valamint egy abba szorosan illeszkedő, az üres henger aljára akasztható tömör henger); érzékeny rugós erőmérő; főzőpohár.

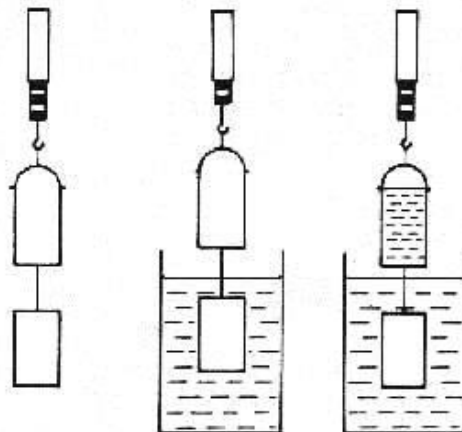
**A kísérlet leírása:**

Mérje meg az üres henger és az aljára akasztott tömör henger súlyát a levegőn rugós erőmérővel!

Ismételje meg a mérést úgy, hogy a tömör henger teljes egészében vízbe lóg!

Ezek után töltsön vizet az üres hengerbe úgy, hogy az csordultig megteljen, s ismételje meg a mérést így is!

Írja fel mindhárom esetben a rugós erőmérő által mért értékeket!



## 8. A hőtágulás bemutatása – golyó és lyuk hőtágulása

### Feladat:

A felfüggesztett fémgolyó éppen átfér a fémgűrűn (Gravesande-készülék). Melegítse borszeszégővel a fémgolyót, vizsgálja meg, hogy ekkor is átfér-e a gűrűn! Mi történik akkor, ha a gűrűt is melegíti? Vizsgálja meg a gűrű és a golyó átmérőjének viszonyát lehűlés közben!

### Szükséges eszközök:

Gravesande-készülék (háziilagosan is elkészíthető); borszeszégő; hideg (jeges) víz.

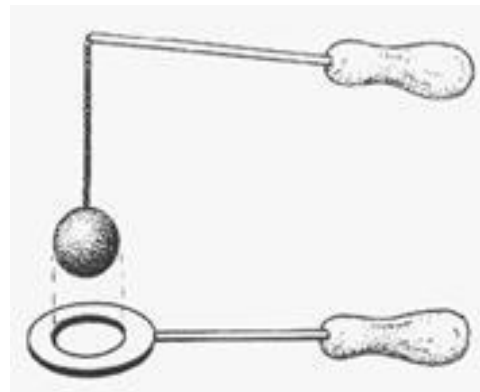
### A kísérlet leírása:

Győződjön meg arról, hogy a golyó szobahőmérsékleten átfér a gűrűn!

Melegítse fel a golyót, és vizsgálja meg, átfér-e a gűrűn!

Melegítse fel a gűrűt, és így végezze el a vizsgálatot!

Hűtse le a gűrűt a lehető legalacsonyabb hőmérsékletre, majd tegye rá a golyót, s hagyja fokozatosan lehűlni!



## 9. A lecsapódás jelensége – a gázok nyomása

### Feladat:

A lombikból kevés víz forralásával hajtsa ki a levegőt! A lombikot zárja le egy léggömbbel, majd a lombikban rekedt vízgőzt hűtéssel csapassa le! Így a lombikban leesik a nyomás, a léggömb a lombikba „beszívódik”.

### Szükséges eszközök:

Hőálló lombik; léggömb; vízmelegítésre alkalmas eszköz (borszeszégő, facsipesz); hideg víz egy edényben, hűtés céljára; védőkesztyű.

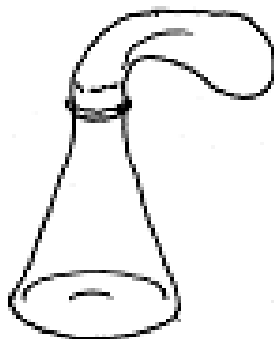
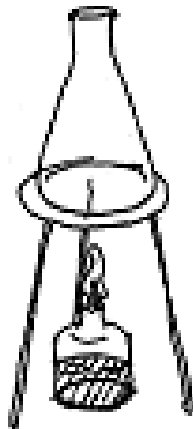
### A kísérlet leírása:

A lombik aljára tegyen egy kevés vizet, és forralja fel!

Fél perc forrás után vegye le a lombikot a tűzről, és feszítsen a szájára egy léggömböt úgy, hogy a léggömb kilógjon a lombikból!

A lombikot hagyja lehűlni (hideg vízzel hűtse le)! Figyelje meg, mi történik a léggömbbel!

Magyarázza a kísérletben bemutatott jelenséget!



## 10. Testek elektromos állapota

### Feladat:

Különböző anyagok segítségével tanulmányozza a sztatikus elektromos töltés és a töltésmegosztás jelenségét!

### Szükséges eszközök:

Két elektroszkóp; ebonit- vagy műanyag rúd; ezek dörzsölésére szőrme vagy műszálas textil; üvegrúd; ennek dörzsölésére bőr vagy száraz újságpapír.

### A kísérlet leírása:

- a) Dörzsölje meg az ebonitrudat a szőrmével (vagy műszálas textillel), és közelítse az egyik elektroszkóphoz úgy, hogy ne érjen hozzá az elektroszkóp fegyverzetéhez!

Mit tapasztal?

Mi történik akkor, ha a töltött rudat eltávolítja az elektroszkóptól?

Ismételje meg a kísérletet papírral dörzsölt üvegrúddal! Mit tapasztal?

- b) Ismétlje meg a kísérletet úgy, hogy a megdörzsölt ebonitrudat érintse hozzá az egyik elektroszkóphoz!

Mi történik az elektroszkóp lemezkéivel?

Dörzsölje meg az üvegrudat a bőrrel (vagy újságpapírral), és érintse hozzá a másik elektroszkóphoz!

Mi történik az elektroszkóp lemezkéivel?

Érintse össze vagy kösse össze vezetővel a két elektroszkópot! Mi történik?



## 11. Soros és párhuzamos kapcsolás

### Feladat:

Egy áramforrás és két zseblámpaizzó segítségével tanulmányozza a soros, illetve a párhuzamos kapcsolás feszültség- és teljesítményviszonyait!

### Szükséges eszközök:

4,5V-os zsebtelep (vagy helyettesítő áramforrás); két egyforma zsebizzó foglalatban; kapcsoló; vezetékek; feszültségmérő műszer, áramerősség-mérő műszer (digitális multiméter).


### A kísérlet leírása:

Készítsen kapcsolási rajzot két olyan áramkőről, amelyben a két izzó sorosan, illetve párhuzamosan van kapcsolva!

A rendelkezésre álló eszközökkel állítsa össze mindkét áramkört!

Mérje meg a fogyasztókra eső feszültségeket és a fogyasztókon átfolyó áram erősségét mindkét kapcsolás esetén!

Figyelje meg az izzók fényerejét mindkét esetben!



## 12. Egyenes vezető mágneses terének vizsgálata

**Feladat:**

Egyenes vezetőben indítson áramot! Az árammal átjárt vezető egyenes szakaszának környezetében vizsgálja a vezető mágneses terének szerkezetét egy iránytű segítségével!

*Szükséges eszközök:*

Áramforrás; vezető; iránytű; állvány.

**A kísérlet leírása:**

Az ábrákon szereplő megoldások valamelyikét követve árammal átjárt egyenes vezetőt feszítünk ki egy iránytű környezetében.

Először a vezető iránya észak-déli legyen, másodsor kelet-nyugati!

Figyelje meg mindkét esetben az iránytű viselkedését!

Végezze el a kísérletet fordított áramiránnyal is!



### 13. Elektromágneses indukció

**Feladat:**

Légmagos tekercs és mágnesek segítségével tanulmányozza az elektromágneses indukció jelenségét!

*Szükséges eszközök:*

Középállású demonstrációs áramerősség-mérő; különböző menetszámú, vasmag nélküli tekercsek (például 300, 600 és 1200 menetes); 2 db rúd mágnes; vezetékek.

**A kísérlet leírása:**

Csatlakoztassa a tekercs két kivezetését az árammérőhöz!

Dugjon be egy mágneset a tekercs hossz tengelye mentén a tekercsbe!

Hagyja mozdulatlanul a mágneset a tekercsben, majd húzza ki a mágneset körülbelül ugyanakkora sebességgel, mint amekkorával bedugta!

Figyelje közben az áramerősség-mérő műszer kitérését!

Ismételje meg a kísérletet fordított polaritású mágnessel is!

Ismételje meg a kísérletet úgy, hogy gyorsabban (vagy lassabban) mozgassa a mágneset!

Ezután fogja össze a két mágneset és a kettőt együtt mozgassa ismételve meg a kísérleteket!

Ismételje meg a kísérletet kisebb és nagyobb menetszámú tekercsrel is!

Röviden foglalja össze tapasztalatait!



## 14. Mechanikai hullámok

### A hang sebességének mérése állóhullámokkal

**Feladat:** Ismert frekvenciájú hangra rezonáló levegőoszlop hosszának mérésével határozd meg a hangterjedési sebességét levegőben

*Szükséges eszközök:*

Nagyméretű, egyik végén zárt üveg- vagy műanyaghenger, mindkét végén nyitott, a hengeres edénybe illeszthető műanyag cső, oldalán centiméteres beosztású skála. Hangvilla (440Hz, 540 Hz).

#### **Kísérlet leírása:**

A hengert állítsa a tálcára és töltsön bele vizet!

Az oldalán skálával ellátott csövet merítse a vízbe!


A csőben lévő levegőoszlopot alulról a víz zárja be, így a légoszlop hossza a cső emelésével és süllyesztésével változtatható.

A cső szabad vége fölé tartson rezgő hangvillát, majd a maximálisan vízbe merített csövet emeljük lassan egyre magasabbra, közben figyeljük a hang felerősödését!

A maximális hangerősséghez tartozó levegőoszlop-magasságot (a cső peremének és a henger vízszintjének különbsége) mérje le!

Határozza meg a hang hullámhosszát, majd a hangvilla rezgésszámának ismeretében a hang terjedési sebességét a levegőben!

Ismételje meg a mérést a másik hangvillával is!





## 15. Geometriai fénytán – optikai eszközök

### Feladat:

Mérje meg a kiadott üveglencse fókusz távolságát és határozza meg dioptriaértékét!

### Szükséges eszközök:

Ismeretlen fókusz távolságú üveglencse; sötét, lehetőleg matt felületű fémlemez (ernyőnek); gyertya; mérőszalag; optikai pad vagy az eszközök rögzítésére alkalmas rúd és rögzítők.

### A kísérlet leírása:


Helyezze a gyertyát az optikai pad tartójára, és gyújtsa meg!

Helyezze el az optikai padon a papíreornyót, az ernyő és a gyertya közé pedig a lencsét!

Mozgassa addig a lencsét és az ernyőt, amíg a lángnak éles képe jelenik meg az ernyőn!

Mérje le ekkor a kép- és tárgy távolságot, és a leképezési törvény segítségével határozza meg a lencse fókusz távolságát!

A mérés eredményét felhasználva határozza meg a kiadott üveglencse dioptriaértékét!



## 16. A polarizáció jelenségének bemutatása polárszűrővel

### Feladat:

A fényforrás felé fordított polárszűrőkkel tanulmányozza a fénypolarizáció jelenségét!  
Állapítsa meg az ismeretlen polárszűrőre jellemző polarizációs irányt!

### Szükséges eszközök:

Két bekeretezett polárszűrő, melyek közül az egyik keretén meg van jelölve a polarizációs irány, a másiknál nincsen; fényforrás; alkoholos filctoll vagy ceruza.

### A kísérlet leírása:

Tartsa a fényforrás irányába az ismert polarizációs irányú polárszűrőt!

Helyezze rá a másik polárszűrőt!

A felső szűrőt lassan körbeforgatva figyelje meg, hogyan változik a két szűrőn átjutó fény intenzitása!

Ennek segítségével állapítsa meg a felső polárszűrőre jellemző, ismeretlen polarizációs irányt!

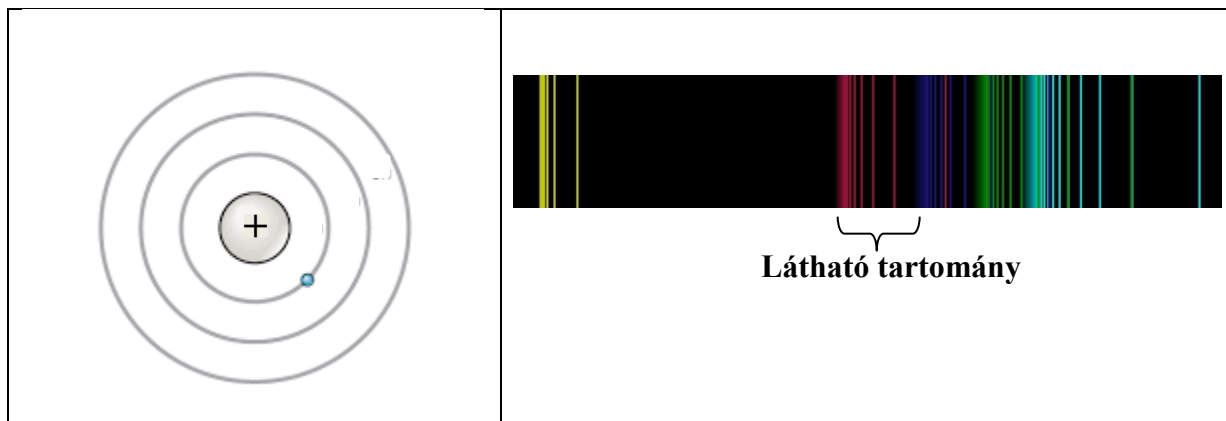
A szűrő keretén tüntesse fel ezt az irányt!



## 17. Színképek és atomszerkezet – Bohr-modell

**Feladat:**

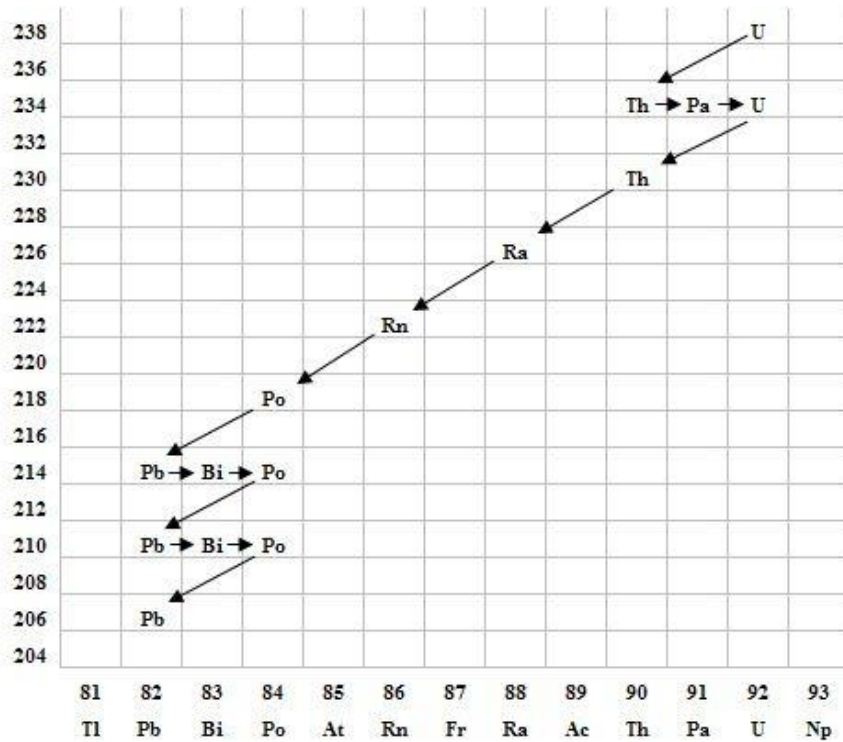
Az ábra alapján mutassa be Bohr atommodelljének legfontosabb jellemzőit a hidrogénatom esetében!  
Értelmezze a hidrogén vonalas színképét a Bohr-modell alapján!



## 18. Az atommag összetétele, radioaktivitás

**Feladat:**

Elemesse és értelmezze a mellékelt ábrán feltüntetett bomlási sort!



**Szemponatok az elemzéshez:**

Mit jelölnek a számok a grafikon vízszintes, illetve függőleges tengelyén?

Mi a kiinduló elem és mi a végső (stabil) bomlástermék?

Milyen bomlásnak felelnek meg a különböző irányú nyilak, hogyan változnak a jellemző adatok ezen bomlások során?

Hány bomlás történik az egyik és hány a másik fajtából?

## 19. Gravitáció

### Kepler törvényeinek bemutatása bolygópálya-szimulációval


**Feladat:**

Mutassa be és értelmezze Kepler törvényeit számítógépes program segítségével!

*Szükséges eszközök:*

Számítógép; Kepler törvényeit animáló program

[https://www.vascek.cz/data/android/physicsatschool/template.php?s=gp\\_sl\\_soustava&l=hu](https://www.vascek.cz/data/android/physicsatschool/template.php?s=gp_sl_soustava&l=hu)



**A feladat leírása:**

Állítsa a Földet a megadott adatokkal pályára! Mitől függ a pálya alakja?

Mi történik, ha túl kis sebessége van a bolygónak?

Hogyan lehet a programban körpályára állítani a Földet a Nap körül?

Ha ellipszis pályán mozog, akkor miért változik a mozgás során a sebesség és a Naptól való távolság?

## 20. A Merkúr és a Vénusz összehasonlítása


### Feladat:

Az alábbi táblázatban szereplő adatok segítségével elemezze a Merkúr és a Vénusz közötti különbségeket, illetve hasonlóságokat!

		<b>Merkúr</b>	<b>Vénusz</b>
1.	Közepes naptávolság	57,9 millió km	108,2 millió km
2.	Tömeg	0,055 földtömeg	0,815 földtömeg
3.	Egyenlítői átmérő	4 878 km	12 102 km
4.	Sűrűség	5,427 g/cm <sup>3</sup>	5,204 g/cm <sup>3</sup>
5.	Felszíni gravitációs gyorsulás	3,701 m/s <sup>2</sup>	8,87 m/s <sup>2</sup>
6.	Szökési sebesség	4,25 km/s	10,36 km/s
7.	Legmagasabb hőmérséklet	430 °C	470 °C
8.	Legalacsonyabb hőmérséklet	-170 °C	420 °C
9.	Légköri nyomás a felszínen	~ 0 Pa	~ 9 000 000 Pa



A Vénusz



A Merkúr felszíne

### A feladat leírása:

Tanulmányozza a Merkúrra és a Vénuszra vonatkozó adatokat!

Mit jelentenek a táblázatban megadott fogalmak?

Hasonlítsa össze az adatokat a két bolygó esetében, és értelmezze az eltérések okát a táblázatban található adatok felhasználásával!